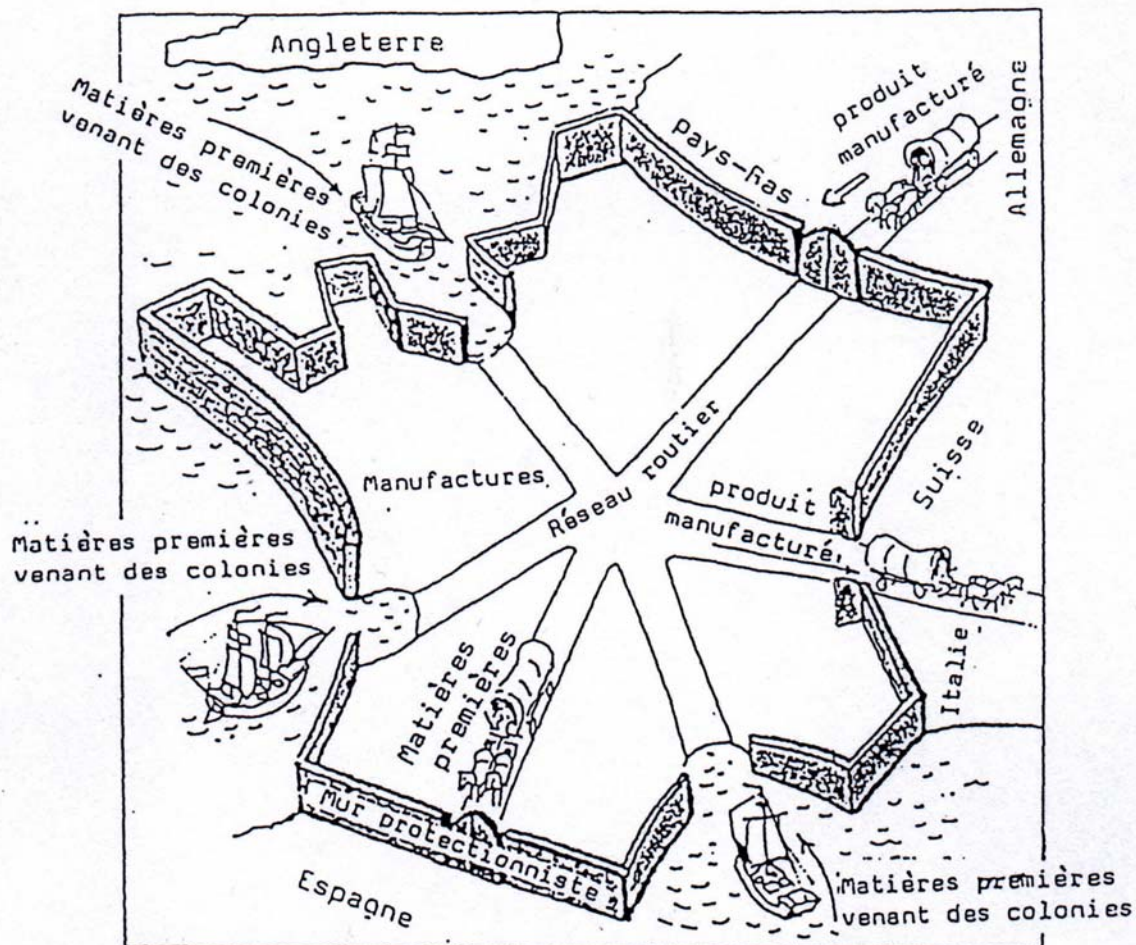


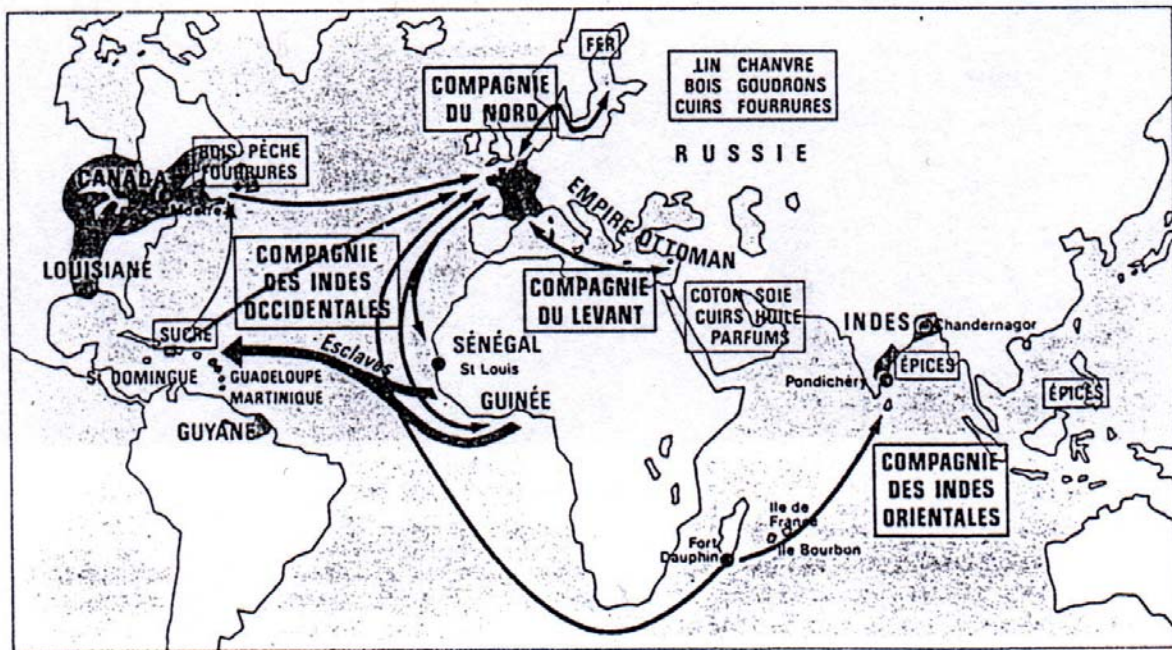
## Colbert et le mercantilisme



1. Regardez la carte. Que représenter-t-elle ?  
D'où viennent les matières premières ?
2. Qu'est ce qu'une manufacture ?
3. Qu'est ce qu'on produit dans une manufacture ?
4. Où vont les produits manufactures ?
5. Quel est le sens du „mur protectionniste" ?
6. Que se passerait-il si tous les Etats pratiquaient  
cette politique économique ?
7. Quels sont les ports les plus importants de France ?

## Colbert commerce et colonisation

Entre 1664 et 1670, Colbert développe le commerce maritime. De grandes «Compagnies» se voient attribuer le monopole du trafic et d'importants crédits. Depuis Lorient, les bateaux de la Compagnie des Indes orientales sillonnent les océans Indien et Pacifique; depuis Nantes et Bordeaux, ceux de la Compagnie des Indes occidentales organisent le trafic du sucre et des esclaves; la Compagnie du Levant commerce avec les Turcs à partir de Marseille. En 1682, en Amérique du Nord, un bourgeois de Rouen, Cavalier de la Salle, baptise le Mississippi fleuve «Colbert» et ses plaines «Louisiane» en l'honneur du roi de France. Cependant Colbert ne peut pas empêcher le massacre des colons français établis à Madagascar en 1672, mais, deux ans plus tard, il apprend avec joie la fondation de Pondichéry sur la côte Orientale de Coromandel, aux Indes. En Amérique centrale, la Martinique et la Guadeloupe sont mises en valeur et des corsaires français s'installent à l'ouest de Saint-Domingue.



## Colbert et le mercantilisme

### La création d'une manufacture

Nous permettons et accordons audit Van Robais de venir s'installer dans la ville d'Abbeville avec cinquante ouvriers hollandais et d'y établir une manufacture de draps fins, tels qu'ils se fabriquent en Espagne et Hollande et pour cet effet, d'y faire transporter et dresser trente métiers à draper. (...) Nous voulons que lui' et ses associés et ouvriers étrangers (...) soient naturalisés. (...) ils seront exempts de tous impôts, logement de gens de guerre, charges de ville, corvées et autres charges publiques pendant le temps de la présente concession. (...) Nous permettons audit entrepreneur et à ses associés et ouvriers de continuer à pratiquer la religion prétendue réformée. (...) Nous ordonnons (...) qu'il soit payé et délivré comptant la somme de 12000 livres<sup>1</sup> audit entrepreneur (...) et celle de 12000 livres pour chaque métier qu'il montera et établira pendant ses trois premières années. (...) Nous avons fait défense à tous ouvriers et autres personnes (...) d'imiter ou de contrefaire la marque desdits draps, pendant vingt années, ni d'établir dans ladite ville et à dix lieues<sup>2</sup> aux environs pareils métiers à draper. Données à Paris, au mois d'octobre. l'an de grâce 1665.

Signé LOUS



1. 1 livre - 20 sous. Un ouvrier gagne environ 10 sous par jour.
2. 1 lieue = environ 4 km.


ORDRE pour être observé par toutes les personnes employées à la manufacture royale des draps d'or d'argent et de soie de Saint-Maur-des-Fossés près de Paris: Toutes les personnes employées à ladite manufacture arrivant le matin à leur métier, avant que de travailler, commenceront par laver leurs mains et ensuite se mettant à leur métier, offriront à Dieu leur travail, à ce que sa divine bonté veuille le bénir, et feront le signe de la croix, puis commenceront à travailler.

### La population de quelques Etats européens vers 1700

France	21 millions d'habitants
Russie	18 millions d'habitants
Angleterre	9 millions d'habitants

Espagne	6 millions d'habitants
Prusse	4,2 millions d'habitants
Etats Italiens	11,5 millions d'habitants
Autriche, Bohême, Hongrie	7,5 millions d'habitants
Provinces Unies	2 millions d'habitants
Suède	1,4 millions d'habitants

millions d'habitants



1. Représentez la population des neuf Etats suivants par une barre verticale à côté de celle de la France.
2. Quelle est la place de la France /de l'Allemagne parmi tous ces pays ?